

# Mathématiques

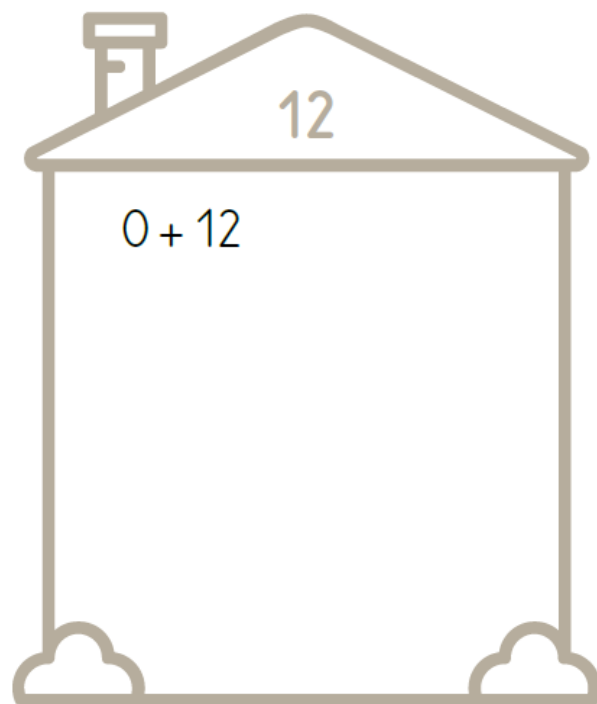
Jeudi 26 mars 2020

**Le défi mathématique du jour !**

## Recherche (révisions)

Ludo veut réaliser **la maison du 12**. Pour cela, il s'est équipé de deux assiettes et de 12 objets identiques (Ludo a choisi des billes. Tu peux utiliser des perles, des jetons, des smarties...). Il organise sa recherche et écrit toutes les solutions qu'il trouve sur son ardoise. Ensuite, il complète la maison du 12.


*A ton tour de compléter la maison du 12 !*



Dessine la maison du 12  
sur ton cahier!  
(Tu peux la décorer !)



# La leçon de Madame Hulotte

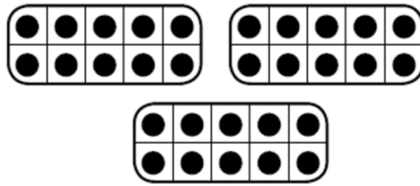


Aujourd'hui, nous allons apprendre à **additionner deux grands nombres** ! Observe bien les boîtes à œufs, qui représentent des dizaines.


1) La fermière ramasse 3 boîtes de 10 œufs le matin puis 2 boîtes de 10 œufs le soir.



Récolte du matin



Récolte du soir



**Ludo calcule** : 3 dizaines + 2 dizaines = 5 dizaines.

$$3d + 2d = 5d = 50$$

$$30 + 20 = 50$$

La fermière a donc ramassé 50 œufs aujourd'hui.



2) **A ton tour de calculer !** Ecris les calculs et leur réponse sur ton cahier. Un adulte peut écrire les opérations pour toi. Tu auras juste à mettre le résultat.

$$2d + 3d =$$

$$4d + 2d =$$

$$1d + 4d =$$

$$3d + 3d =$$

$$2d + 6d =$$

$$4d + 3d =$$

$$20 + 30 =$$

$$10 + 20 =$$

$$30 + 40 =$$

$$10 + 30 =$$

$$20 + 20 =$$

$$30 + 20 =$$

2) Range les nombres du plus petit au plus grand.

28 41 34

52 36 45

..... < ..... < .....

..... < ..... < .....

48 54 42

48 27 51 38

..... < ..... < .....

..... < ..... < ..... < .....

-----  
-----  
-----  
-----  
-----  
-----

-----